

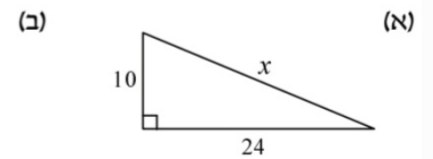
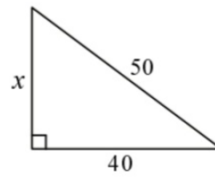
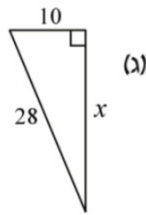
משימה ללמידה בניהול עצמי

קישור לסרטון הסבר

<https://youtu.be/msfnmjbu7kg?si=3ybb2bE4SY0JbNBY>

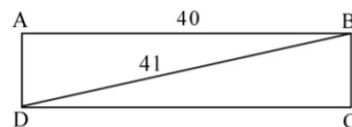
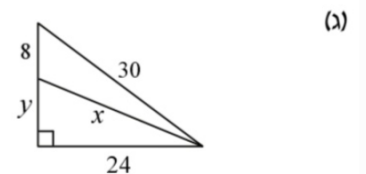
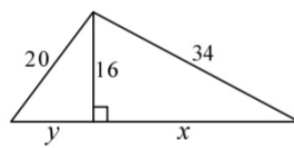
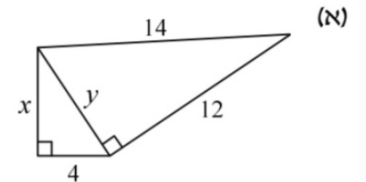
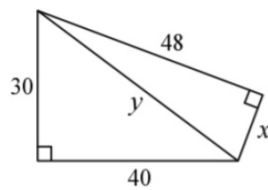
בכל אחד מהסרטוטים הבאים חשבו את ערכו של x .

כל המידות בסרטוטים נתונות בס"מ.



בכל אחד מהסעיפים חשבו את ערכו של x ואת ערכו של y .

כל המידות בסרטוטים נתונות בס"מ.



נתון מלבן ABCD.

אורך אחת הצלעות במלבן הוא 40 ס"מ.

אורך האלכסון במלבן הוא 41 ס"מ.

(א) חשבו את אורך הצלע השנייה.

(ב) חשבו את שטח המלבן.